

Тематичний тиждень 7.

Золота осінь



Роздатки для індивідуальної роботи учнів

Тривалість

5. Працюємо самостійно:

2 год.

вправи з математики та мови


Додаток 1



У кожній групі малюнків викресли «зайве». Обведи букви і спробуй прочитати назву групи.



ОСИЛІ



ПЕРЕЛІТКИ



ДЕРЕВА



ТРАВИ

Додаток 2



Розстав кавуни за розміром, починаючи з найбільшого.



5


Який кавун найбільший?

Який кавун найменший?

Які кавуни однакові за розмірами?



З'єднай малюнки з відповідним записом.



4 + 3 1 + 4 4 + 2



3 + 2 3 + 3 5 + 2



Розв'яжи приклади й обведи правильну відповідь.

$$\text{🍁} + \text{🍁} = 7413256$$

$$\text{🍂} + \text{🍂} + \text{🍂} + \text{🍂} = 7413256$$

$$\text{🍁} + \text{🍁} + \text{🍁} + \text{🍁} - \text{🍁} = 7413256$$


$$\text{🍂} + \text{🍂} + \text{🍂} + \text{🍂} + \text{🍂} + \text{🍂} - \text{🍂} = 7413256$$

$$\text{🍃} + \text{🍃} + \text{🍃} + \text{🍃} + \text{🍃} + \text{🍃} + \text{🍃} = 7413256$$

$$\text{🍃} + \text{🍃} + \text{🍃} + \text{🍃} + \text{🍃} + \text{🍃} = 7413256$$




Знайди фрукти та обведи їх олівцями різного кольору.



На столі лежало 6 яблук. Одне з них розрізали на дві половинки. Скільки яблук на столі? Запиши правильну відповідь.



Порахуй фрукти або овочі. З'єднай з відповідною цифрою.



ПЛОДИ



Обведи букви і спробуй прочитати слово, яким називають овочі та фрукти.